

Objetivo:

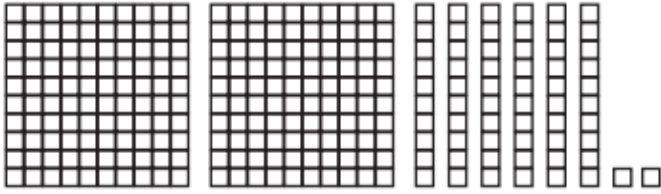
- Identificar y describir Unidades, decenas y centenas del 0 al 1000.

Guía de Ejercicios Valor posicional


Nombre: _____ Fecha: ____/____/____

1. Realiza los siguientes ejercicios, siguiendo el ejemplo.


Ejemplo:




C	D	U
2	6	2




C	D	U




C	D	U




C	D	U



C	D	U



C	D	U



C	D	U



2.- Observa y sigue el ejemplo:

Ejemplo:

419		
Centenas	Decenas	Unidades
400	10	9

a)

503		
Centenas	Decenas	Unidades

b)

720		
Centenas	Decenas	Unidades

c)

846		
Centenas	Decenas	Unidades

d)

195		
Centenas	Decenas	Unidades