


Nombre: _____ Curso: 4º Año _____ Fecha: 27-04-2020.-

Lee los textos y luego desarrolla las siguientes actividades:

¿TODO ES MATERIA?



Todo lo que puedas imaginar, un sacapuntas, un edificio, el agua que bebes, el aire que respiras, incluso los seres vivos, tienen algo en común: están formados por materia. La **materia** es todo lo que **tiene masa y volumen**.

La **masa** corresponde a la **cantidad de materia que tiene un cuerpo**. Se mide con un instrumento llamado balanza. La unidad de medida más utilizada es el kilogramo, cuyo símbolo es kg. También se pueden emplear el gramo, cuyo símbolo es g: 1 kilogramo es igual a 1000 gramos.

El **volumen** es el **espacio que ocupa un cuerpo**. Se puede medir con distintos instrumentos, por ejemplo, una pipeta, una huincha de medir o una probeta. Su principal unidad de medida es el metro cúbico (m³). Sin embargo, la que más utilizamos para los líquidos es el litro, cuyo símbolo es L. Ahora bien, 1 litro es igual a 1000 mililitros (mL), que es otra de las unidades que comúnmente se emplea.

La **temperatura** es otra propiedad de la materia. Es una magnitud que entrega información sobre el **movimiento de las partículas** que conforman un cuerpo. Así mientras mayor sea el movimiento de las partículas, mayor será su temperatura. Prueba frotando rápidamente tus manos, ¿qué sientes? Para medirla se emplea un instrumento llamado termómetro, el que puede estar graduado en distintas escalas de medida: en Chile, generalmente se emplea la escala Celsius (°C).

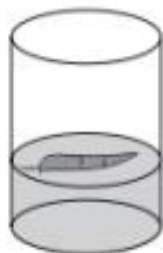
I.-Escribe en la columna " B " el número del concepto de la columna "A" :

"A"

" B "

- | | |
|--------------------------|--|
| 1. Materia | ----- Unidad de medida para la masa. |
| 2. Masa | ----- Cantidad de materia que tiene un cuerpo. |
| 3. Volumen | ----- Movimiento de las partículas. |
| 4. Temperatura (Tº) | ----- Todo lo que tiene masa y volumen. |
| 5. Kilogramos (Kg.) | ----- Unidad de medida para el volumen. |
| 6. Litros (L) | ----- Unidad de medida para la temperatura. |
| 7. Grados Celsius (ºC) | ----- Espacio que ocupa un cuerpo. |

II.-Observa y responde las siguientes preguntas. Considerando que todos los recipientes tienen la misma cantidad de agua.



pluma



roca



plátano



pelota

1.-¿Qué objeto es el que tiene **menos volumen**? _____

2.-¿Qué objeto es el que tiene **más volumen**? _____

3.-Escribe los nombres de los **objetos en orden**, desde el que **tiene menos volumen al que tiene más Volumen**.

_____ , _____ , _____ , _____

4.-¿Por qué pareciera que unos recipientes tienen más agua que otros?

LA MATERIA Y SUS ESTADOS

La materia puede encontrarse, generalmente, en tres estados físicos: **sólido**, **líquido** y **gaseoso**, aunque la mayor parte de los objetos que usas están fabricados con materiales sólidos, como la madera, el vidrio y los plásticos.

La materia está **formada por pequeñas partículas**, unidas entre sí por fuerzas de atracción y en constante movimiento. En cada uno de los estados de la materia, la unión y el movimiento de las partículas son diferentes tal como se explica a continuación.

Sólido



☞ Piedra

Sus partículas están ordenadas y la distancia que las separa es muy pequeña. Vibran en sus posiciones fijas, pero no se desplazan.


Líquido



☞ Jugo dentro del vaso

Sus partículas están desordenadas y la distancia que las separa es mayor que en los sólidos. Vibran y se pueden desplazar.

Gaseoso



☞ Aire dentro del globo

Sus partículas están mucho más desordenadas y separadas que en los líquidos. Vibran y se desplazan libremente ocupando todo el espacio disponible.

CARACTERÍSTICAS DE LOS ESTADOS FÍSICOS DE LA MATERIA

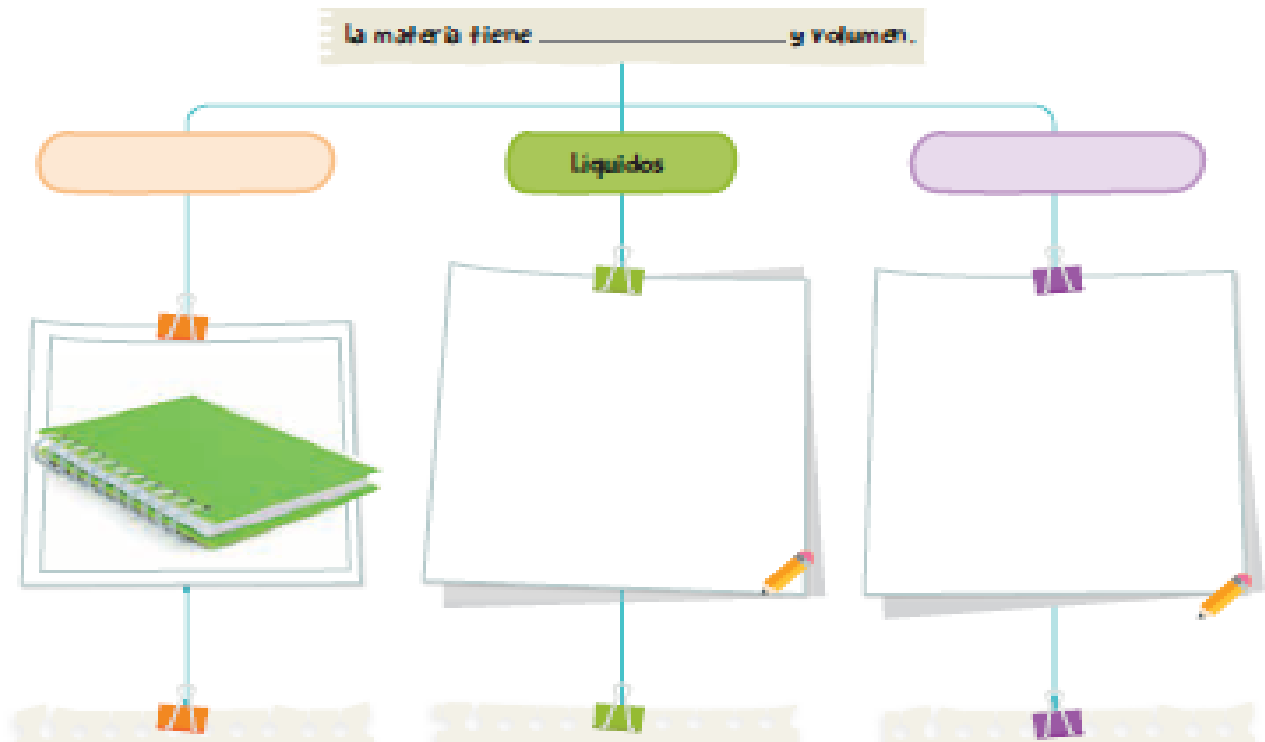
1. Los **sólidos**, como la piedra, al cambiarla de un vaso a otro, **no cambia su forma ni su volumen**, es decir, se mantienen definidos.
2. Los **líquidos**, se adaptan a la forma del recipiente que los contiene. Es por ello que se dice que los líquidos **no tienen forma propia**, pero sí un **volumen definido**. Por eso, al traspasar el jugo de un recipiente a otro, si bien cambió su forma, su volumen permaneció igual.
3. Los **gases**, tiene la capacidad de ocupar todo el espacio disponible. Por ejemplo, si inflas tres globos de diferentes formas con aire y los cierras herméticamente, el gas se adaptará a la forma de los globos, ocupando todo el espacio disponible, es decir, **la forma y el volumen de los gases no son definidos**.

III.- Busca en la imagen ejemplos de estados de la materia y escríbelos en los casilleros



SOLIDO	LIQUIDO	GASEOSO

IV.-Completa el siguiente esquema (organizador gráfico) para resumir las principales propiedades de la Materia.



Tienen _____ y
 _____ definidos
 No pueden _____
 Y no se pueden comprimir.

No tienen _____
 definida pero si su
 _____ Pueden
 Fluir y son muy poco

No tienen _____
 ni volumen definidos.
 Pueden _____ y
 son fácilmente compresibles.