

Nombre: ..... CURSO: ..... FECHA: .....

1. Completa el conteo según corresponda.


a. De 10 en 10  250      


b. De 100 en 100  311      


2. Une cada número con su expresión escrita.

308	Novecientos cincuenta v cuatro.
954	Trescientos ocho.
550	Quinientos cincuenta.

3. Representa numéricamente cada número escrito con palabras.

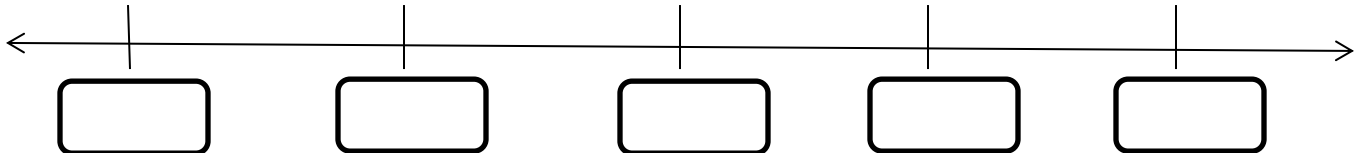
a. Setecientos siete. 

b. Ochocientos treinta y nueve. 

c. Quinientos noventa y cuatro. 

4. Ubica los siguientes números en la recta numérica.

305	337	332	329	313
-----	-----	-----	-----	-----

Marca con una X tu respuesta.

5. ¿A cuántas unidades equivalen 8 decenas?

a. 8 U

b. 80 U

c. 88 U

d. 800 U

C	D	U

6. ¿Qué resultado da la adición  $340 + 175$ ?

a. 415

b. 4.115

c. 575

d. 515

7. ¿Cuál es el resultado de la sustracción  $725 - 506$ ?

a. 815

b. 825

c. 1.021

d. 1.031

8. En un restaurante se vendieron el día sábado 64 platos de verduras surtidas y 78 platos de pescado; el domingo se vendieron 95 platos de verduras surtidas y 126 platos de pescado. ¿Cuántos platos, entre verduras surtidas y pescado, se vendieron en total los dos días?

a. 142 platos.

b. 363 platos

c. 375 platos.

d. 496 platos.