


ACTIVIDADES: MULTIPLICACIONES COMO ADICIONES REITERADAS


1. Resuelve y completa:



..... + ..... + ..... = .....

3 veces 3 = .....


3 • 3 = .....



..... + ..... = .....

2 veces 4 = .....


2 • 4 = .....



..... + ..... + ..... + ..... + ..... = .....

..... veces ..... = .....

..... • ..... = .....



..... + ..... + ..... + ..... = .....

..... veces ..... = .....

..... • ..... = .....



..... + ..... + ..... + ..... + ..... = .....


..... veces ..... = .....

..... • ..... = .....

2. Dibuja y completa:



Compré 2  
bolsas con 5  
panes cada una



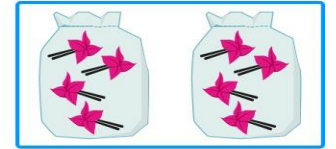
..... + ..... = .....

..... veces ..... = .....

..... • ..... = .....



Compré 2  
bolsas con 4  
pinches cada una



..... + ..... = .....

..... veces ..... = .....

..... • ..... = .....



Compré 3  
bolsas con 2  
dulces cada una



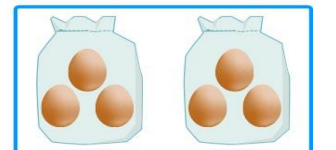
..... + ..... + ..... = .....

..... veces ..... = .....

..... • ..... = .....



Compré 2  
bolsas con 3  
huevos cada una



..... + ..... = .....

..... veces ..... = .....

..... • ..... = .....

3. Completa la tabla:

Adición	Nº de veces	Multiplicación	Producto
$2+2+2+2$		$4 \cdot 2$	
$5+5$	2 veces 5		
$1+1+1+1+1+1$			6

4. Resuelve y responde:

a) Luis tiene en cada bandeja 3 sándwich en cada bandeja como se muestra en la imagen.




¿Cuántos sándwich tiene en total?

4 veces 3 = .....

$4 \cdot 3 = \dots\dots\dots$

.....

b) Cada árbol tiene 5 manzanas



¿Cuántas manzanas hay en total?

..... veces..... = .....

..... · ..... = .....

c) Hay dos cajas de tomates y en cada una de ellas caben 6 tomates.



¿Cuántos tomates hay en total?

..... veces..... = .....

..... · ..... = .....

...