

**Nombre:**..... **CURSO:** ..... **FECHA:** 01/07/2020

I.- Encierra la letra de la alternativa correcta.

1. ¿Qué son los puntos cardinales?

- A. Puntos de referencia para orientarse.
- B. Líneas de referencia de la cuadrícula.
- C. Características de los distintos paisajes.
- D. Nombres de líneas que dividen la Tierra.

2. Adaptarnos al entorno significa que las personas debemos:

- A. Cambiar el clima para vivir en buenas condiciones.
- B. Acostumbrarse y mantener las cosas como están.
- C. Buscar otro lugar mejor y cambiarse a ese nuevo espacio.
- D. Conocer el lugar y crear condiciones para vivir bien en él.







3. Observa la imagen e identifica la línea de referencia que en ella se explica.



- A. Línea del ecuador.
- B. Trópico de Cáncer.
- C. Círculo polar antártico.
- D. Trópico de Capricornio.

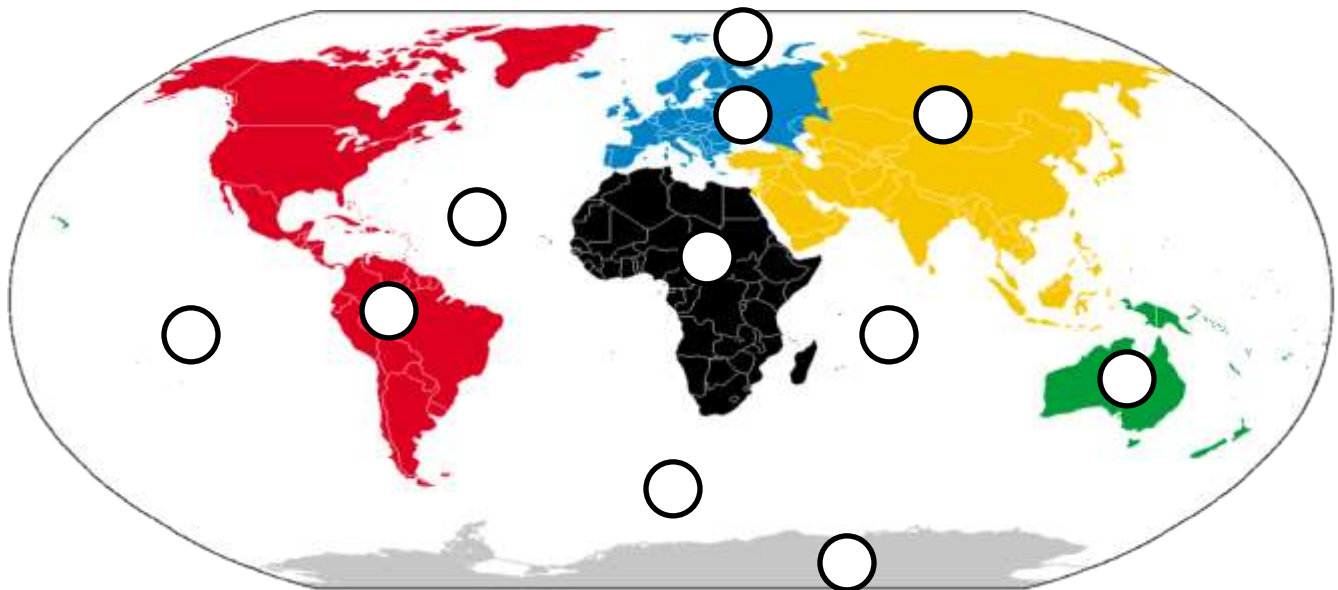
**II.- Realiza las actividades propuestas.**

4. Observa la cuadrícula. Luego, completa el recuadro escribiendo la columna y la fila en que se ubican los siguientes lugares.

	A	B	C	D	E
1			Banco 		
2		Hospital 	Parque 		
3		Cine 		Correo 	
4		Museo 			

Lugar	Columna	Fila
Cine		
Banco		
Museo		
Correo		

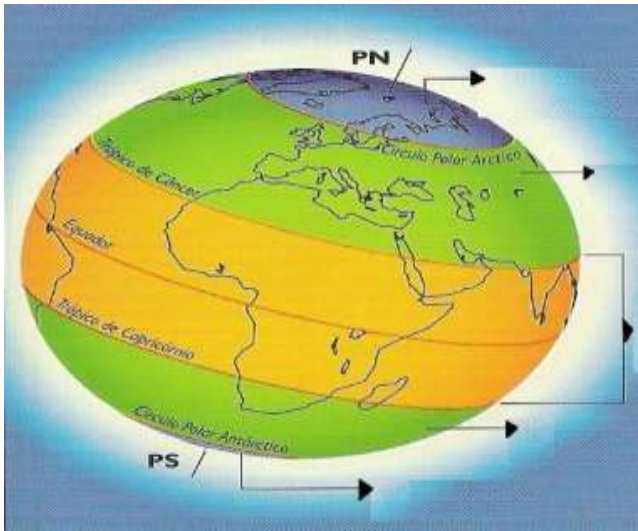
5.- Observa el planisferio.



a. Escribe en los círculos el número correspondiente a cada continente y océano.

- |                    |                  |                           |                      |            |           |                   |
|--------------------|------------------|---------------------------|----------------------|------------|-----------|-------------------|
| 1. Asia            | 2. África        | 3. América                | 4. Antártica         | 5. Oceanía | 6. Europa | 7. Océano Austral |
| 8. Océano Pacífico | 9. Océano Índico | 10. Océano Glacial Ártico | 11. Océano Atlántico |            |           |                   |

6.- Ubica y completa con las zonas climáticas. Zona cálida, zona fría del norte, zona fría del sur, zona templada del norte y zona templada del sur.

7.- Observa las siguientes imágenes y escribe el nombre del paisaje que se representa en cada una de ellas.

