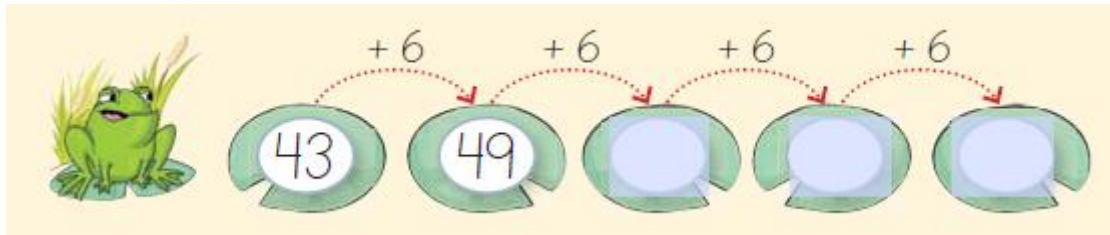


# ACTIVIDADES DE REFUERZO DE MATEMÁTICA

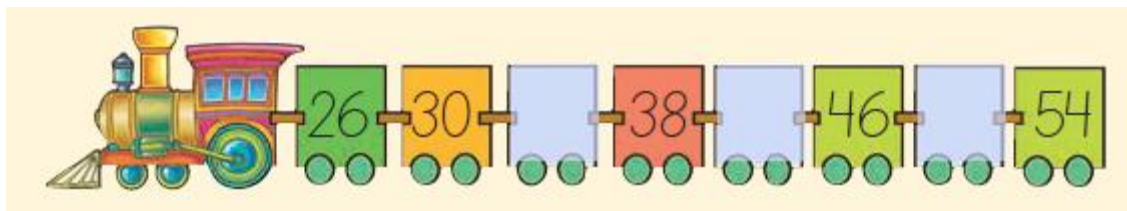
1. Completa la secuencia numérica siguiendo el patrón.

Patrón Sumar 6



2. Descubre el patrón y completa los números de los vagones.



a. Patrón: \_\_\_\_\_







b. Patrón: \_\_\_\_\_



3. Compara la cantidad de bolitas de cada recipiente y completa con menor que, mayor que o igual que, según corresponda.

a.  es  

b.  es  

c.  es  

4. Completa con los símbolos  $>$ ,  $<$ ,  $=$ , según corresponda.

a.  $67$   $\bigcirc$   $54$       c.  $72$   $\bigcirc$   $91$

b.  $63$   $\bigcirc$   $63$       d.  $84$   $\bigcirc$   $48$

5. Completa con los números para que se cumpla la igualdad o desigualdad.

a.  $95$   $=$   $\square$       c.  $87$   $>$   $\square$

b.  $84$   $<$   $\square$       d.  $63$   $<$   $\square$

6. ¿Cuál es el patrón de la siguiente secuencia numérica?

$80$   $65$   $50$   $35$   $20$   $5$

- A) Sumar 15
- B) Restar 15
- C) Restar 10

7. ¿Cuál de las siguientes relaciones es correcta?

- A)  $68 < 63$
- B)  $56 > 49$
- C)  $32 = 23$